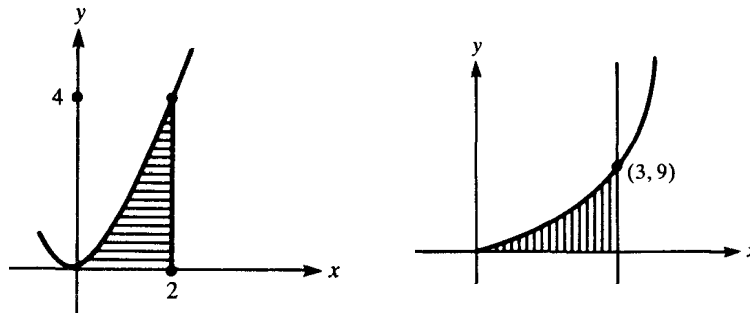


Math Analyse III automne 2018

Feuille 3 : Intégrales multiples, matrices jacobiennes

Exer. 3.1 Soit \mathcal{R} le pavé $[-2, 3] \times [1, 4]$ dans \mathbb{R}^2 . Calculer $\iint_{\mathcal{R}} (x^2 - 2xy^2 + y^3) dA$.
(Rép : 995/4)

Exer. 3.2 Exprimer l'intégrale double $I := \int_0^2 \int_0^{x^2} f(x, y) dy dx$ lorsque l'ordre d'intégration est renversé. (Voir la figure ci-dessous à gauche.)



Exer. 3.3 Calculer $\iint_D e^{x^3} dA$, où D est le domaine borné par $y = x^2$, $x = 3$, et $y = 0$.
(Voir la figure ci-dessus à droite.)

Exer. 3.4 Calculer $\iint_D \frac{dx dy}{(x+y)^3}$ avec $D := \{(x, y) \in \mathbb{R}^2 : x \geq 1, y \geq 1, x+y \leq 3\}$. (Rép : 1/36)

Exer. 3.5 Évaluer l'intégrale itérée $I := \int_0^1 \int_y^1 \tan x^2 dx dy$. (Indication : inverser l'ordre d'intégration ; rép : $-\frac{1}{2} \ln(\cos 1)$.)

Exer. 3.6 Évaluer l'intégrale $I := \int_0^1 \int_0^{\arccos x} e^{\sin y} dy dx$.

Exer. 3.7 Calculer $\iint_{\mathcal{D}} y^2 dA$, où \mathcal{D} est le domaine borné par $y = 2x$, $y = 5x$, et $x = 2$.

Exer. 3.8 Évaluer $\iint_D x^2 y^2 dA$, où D est la partie compacte dans \mathbb{R}^2 délimitée par les droites $y = 1$, $y = 2$, $x = 0$, et $x = y$.

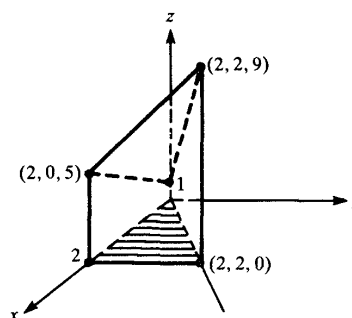
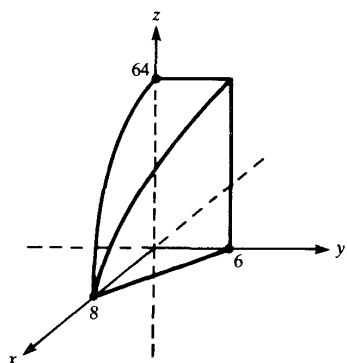
Exer. 3.9 Calculer $\iint_{\Omega} x^2 dA$, où $\Omega := \{(x,y) \in \mathbb{R}_+^2 : x \geq y, x \leq 8, xy \leq 16\}$. (Il est suggéré de dessiner Ω ; rép : 448)

Exer. 3.10 Soit E le domaine compact dans \mathbb{R}_+^2 situé entre les courbes $y = x^4$ et $y = 4 - 3x^2$.

(a) Dessiner E .

(b) Quelles sont les trois intégrales doubles qu'il faut calculer afin de déterminer le centre de gravité (\bar{x}, \bar{y}) de E ? Le trouver.

Exer. 3.11 En calculant une certaine intégrale double, calculer le volume de la région dans \mathbb{R}_+^3 bornée par $x^2 + z = 64$, $3x + 4y = 24$, $x = 0$, $y = 0$, et $z = 0$. (Voir la figure à gauche ci-dessous; penser au graphe de la fonction $z = 64 - x^2$.)



Exer. 3.12 Calculer le volume du domaine dans \mathbb{R}_+^3 délimité par $2x + 2y - z + 1 = 0$, $y = x$, et $x = 2$. (Voir la figure à droite ci-dessus.)

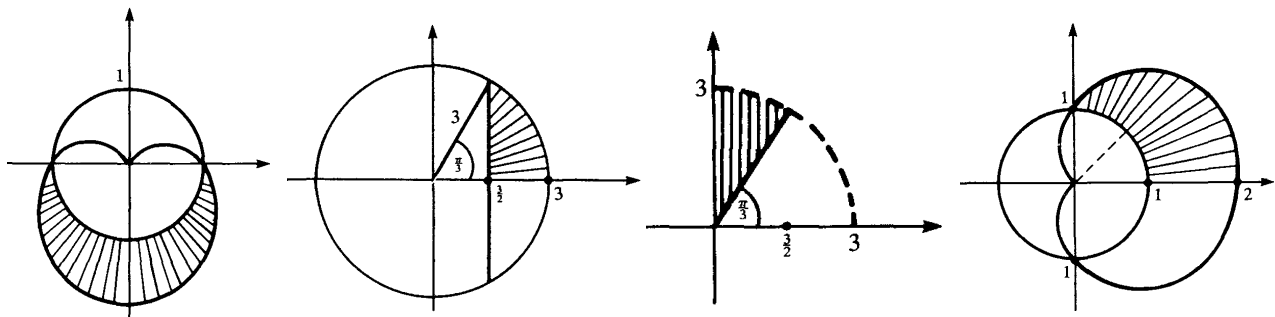
Exer. 3.13 Décrire le solide dont le volume est donné par $\int_0^2 \int_{2x}^4 \int_0^1 dz dy dx$.

Exer. 3.14 Évaluer $\iiint_R e^{x+y+z} dV$, où R est la région dans \mathbb{R}^3 délimitée par le plan $2x + y + z = 4$ et les trois plans $x = 0$, $y = 0$, $z = 0$.

coordonnées polaires

Exer. 3.15 On s'intéresse à l'intégrale $I := \int_0^{3/2} \int_{\sqrt{3}x}^{\sqrt{9-x^2}} 2xy dy dx$.

(a) Évaluer I directement (en coordonnées cartésiennes).



(b) Évaluer I en passant en coordonnées polaires (on trouve la figure, prochaine page).

Exer. 3.16 Calculer $\iint_B e^{-x^2-y^2} dx dy$, où B est la boule (disque) unité euclidienne dans \mathbb{R}^2 .

Exer. 3.17 À l'aide des coordonnées polaires, calculer l'intégrale double $I := \iint_D \frac{y dx dy}{a^2 + x^2}$ où $a > 0$ et D consiste des points $(x, y) \in \mathbb{R}_+^2$ tels que $x^2 + y^2 \leq a^2$.

Exer. 3.18 Décrire le domaine dans \mathbb{R}^2 dont l'aire est donnée par l'intégrale $\int_{\pi}^{2\pi} \int_1^{1-\sin\theta} r dr d\theta$. (La courbe $r = 1 - \sin\theta$ décrit une *cardioïde*; voir la figure ci-dessous.) Calculer son aire.

Exer. 3.19 Calculer l'aire du domaine dans \mathbb{R}_+^2 compris dans le cercle $x^2 + y^2 = 9$ et à droite de la droite $x = \frac{3}{2}$. (Voir la figure ci-dessous.)

Exer. 3.20 Soit D la région à l'extérieur du cercle $r = 1$ et comprise dans la cardioïde $r = 1 + \cos\theta$, avec $\theta \geq 0$. (Voir la figure ci-dessous)

(a) Calculer $I = \iint_D \sin\theta dA$. (Rép : $2/3$)

(b) Calculer le centre de gravité (\bar{x}, \bar{y}) de D .

coordonnées cylindriques et sphériques

Exer. 3.21 On considère le domaine borné D dans \mathbb{R}^3 qui est au-dessus du plan $x-y$, sous la parabolöide $z = x^2 + y^2$, et limité par le cylindre $x^2 + y^2 = a^2$ (où $a > 0$).

(a) Quelles sont les conditions sur les coordonnées cartésiennes (x, y, z) d'un point P afin que ce point appartienne à D ?

(b) Quelles sont les conditions sur les coordonnées cylindriques (r, θ, z) d'un point P afin que ce point appartienne à D ?

(c) Calculer le volume de D , c-à-d, l'intégrale $\iiint_D dx dy dz$.

Exer. 3.22 On considère le domaine Ω dans $\{(x, y, z) \in \mathbb{R}^3 : z \geq 0\}$ qui est limité par-dessus par la sphère $x^2 + y^2 + z^2 = a^2$, et par-dessous par le cône $z^2 = x^2 + y^2$ (où $a > 0$).

(a) Quelles sont les conditions sur les coordonnées cartésiennes (x, y, z) d'un point P afin que ce point appartienne à Ω ?

(b) Quelles sont les conditions sur les coordonnées sphériques (ρ, θ, φ) d'un point P afin que ce point appartienne à Ω ?

(c) Calculer le volume de Ω .

Exer. 3.23 Utiliser les coordonnées cylindriques pour calculer le volume du solide convexe limité par le cylindre $x^2 + y^2 = 25$ et entre les plans $z = 2$ et $x + z = 8$.

Exer. 3.24 Soit \mathcal{H} la demi-boule $\{(x, y, z) \in \mathbb{R}^3 : x^2 + y^2 + z^2 \leq a^2, z \geq 0\}$, où $a > 0$, et soit $(\bar{x}, \bar{y}, \bar{z})$ son centre de gravité. Il est clair par symétrie que $\bar{x} = \bar{y} = 0$. Sachant que l'on a

$$\bar{z} = \frac{1}{\text{volume}(\mathcal{H})} \iiint_{\mathcal{H}} z \, dV,$$

utiliser les coordonnées sphériques pour calculer \bar{z} .

matrices jacobienes

Exer. 3.25 On pose $u(s, t) = s^2 e^t$, $v(s, t) = 4s - t$.

(a) On définit la fonction vectorielle $G : \mathbb{R}^2 \rightarrow \mathbb{R}^2$ par $(s, t) \mapsto G(s, t) = (u(s, t), v(s, t))$. Calculer la matrice jacobienne $JG(1, 0)$.

(b) Soit $F : \mathbb{R}^2 \rightarrow \mathbb{R}^2$ l'application $F(u, v) = (u - 3v^2, u^3)$. Calculer $JF(1, 4)$.

(c) Expliciter la fonction composée $F \circ G(s, t)$.

(d) Calculer $J(F \circ G)(1, 0)$ de deux façons différentes : en utilisant la réponse de (c) pour calculer la matrice jacobienne de $F \circ G$ directement, et en utilisant les réponses de (a) et (b) puis la formule pour la matrice jacobienne d'une fonction composée.

Exer. 3.26 Soit $F : \mathbb{R}^3 \rightarrow \mathbb{R}^2$ la fonction $F(x, y, z) = (x^3 + y^2 z + \sin(xyz), y + \ln(1 + xyz))$.

(a) Calculer la matrice jacobienne $JF(1, 1, 0)$, en justifiant son existence.

(b) Exprimer la différentielle $dF(1, 1, 0)(h, k, \ell)$.

(c) Le théorème des fonctions implicites nous permet de prouver (admis) l'existence de $\delta > 0$ et deux fonctions $\hat{x}(\cdot)$ et $\hat{z}(\cdot)$ définies et continûment dérivables sur l'intervalle $]1 - \delta, 1 + \delta[$ telles que $\hat{x}(1) = 1$, $\hat{z}(1) = 0$, et

Trouver $\hat{x}'(1)$ et $\hat{z}'(1)$.
$$F(\hat{x}(y), y, \hat{z}(y)) = (1, 1), \quad y \in]1 - \delta, 1 + \delta[.$$

Exer. 3.27 Soit $f : \mathbb{R}^n \rightarrow \mathbb{R}$ une fonction deux fois continûment dérivable. Quelle est la matrice jacobienne de l'application $x \mapsto \nabla f(x)$? (On la connaît déjà, sous un autre nom.)

Exer. 3.28 On engendre un changement de variables $(x, y) \longleftrightarrow (u, v)$ en posant

$$y^2 = ux, x^2 = vy.$$

(a) Calculer le déterminant jacobien $\frac{\partial(u, v)}{\partial(x, y)}$, et en déduire $\frac{\partial(x, y)}{\partial(u, v)}$.

(b) Dessiner dans le plan x - y le domaine compact \mathcal{D} dans \mathbb{R}_+^2 délimité par les courbes $y^2 = x$, $y^2 = 8x$, $x^2 = y$, $x^2 = 8y$.

(c) À quel domaine Δ dans le plan u - v le domaine \mathcal{D} correspond-t-il?

(d) Calculer l'aire de \mathcal{D} , c-à-d, l'intégrale $\iint_{\mathcal{D}} dx dy$.

Exer. 3.29 Soit $D \subset \mathbb{R}^2$ défini par $D := \{(x, y) \in \mathbb{R}_+^2 : x^3 + y^3 \leq 1\}$. On considère la transformation $(x, y) \longleftrightarrow (u, v)$ engendrée par $x^3 = u$, $y^3 = v$.

(a) Quelle est l'image Δ (dans le plan u - v) du domaine D par cette transformation?

(b) Calculer le déterminant jacobien $\frac{\partial(u, v)}{\partial(x, y)}$ associé à la transformation.

(c) À l'aide du changement de variables $(x, y) \mapsto (u, v)$, calculer l'intégrale

$$J := \iint_D x^2 y^2 \sqrt[3]{1 - x^3 - y^3} dx dy.$$

Exer. 3.30 Soit \mathcal{D} le domaine dans \mathbb{R}^2 limité par les droites $x + y = 1$, $x = 0$, $y = 0$. Démontrer que

$$\iint_{\mathcal{D}} \cos\left(\frac{x-y}{x+y}\right) dx dy = \frac{\sin 1}{2}.$$

(Indication : poser $x - y = u$, $x + y = v$)